



Федеральное агентство по рыболовству
БГАРФ ФГБОУ ВО «КГТУ»
Калининградский морской рыбопромышленный колледж

УТВЕРЖДАЮ
Зам.начальника колледжа
по учебно-методической работе
М.С. Агеева

ОУД.09 ГЕОГРАФИЯ

Фонд оценочных средств для проведения текущего контроля и промежуточной аттестации в форме дифференцированного зачета по специальности 43.02.15 «Поварское и кондитерское дело»

МО –43.02.15.ОУД.09.ФОС

РАЗРАБОТЧИК

Преподаватель колледжа: Адакимчик О.В.

ЗАВЕДУЮЩИЙ ОТДЕЛЕНИЕМ

Судьбина Н.А.

ГОД РАЗРАБОТКИ

2021

Фонд оценочных средств для проведения текущего контроля и промежуточной аттестации по дисциплине «География» разработан на основе ФГОС СПО по специальности 43.02.15 «Поварское и кондитерское дело», рабочей программы учебной дисциплины «География» и Положения о текущем контроле и промежуточной аттестации колледжа.

Содержание

1.ПАСПОРТ ФОНДА ОЦЕНОЧНЫХ СРЕДСТВ.....	4
1.1 Область применения фонда оценочных средств	4
1.2 Результаты освоения дисциплины	4
1.3 Сводные данные о формах и средствах контроля, основных показателях и критериях оценивания результатов обучения.....	6
2.КОМПЛЕКТ ОЦЕНОЧНЫХ СРЕДСТВ ДЛЯ ПРОВЕДЕНИЯ ДИФФЕРЕНЦИРОВАННОГО ЗАЧЕТА.....	12

1. ПАСПОРТ ФОНДА ОЦЕНОЧНЫХ СРЕДСТВ

1.1 Область применения фонда оценочных средств

Фонд оценочных средств предназначен для оценки результатов освоения учебной дисциплины География

1.2 Результаты освоения дисциплины

В результате контроля и оценки по учебной дисциплине осуществляется комплексная проверка частичного освоения общих компетенций:

В результате изучения дисциплины у обучающихся формируются элементы следующих общих компетенций:

ОК 01. Выбирать способы решения задач профессиональной деятельности, применительно к различным контекстам

ОК 02. Осуществлять поиск, анализ и интерпретацию информации, необходимой для выполнения задач профессиональной деятельности

ОК 03. Планировать и реализовывать собственное профессиональное и личностное развитие.

ОК 04. Работать в коллективе и команде, эффективно взаимодействовать с коллегами, руководством, клиентами.

ОК 05. Осуществлять устную и письменную коммуникацию на государственном языке с учетом особенностей социального и культурного контекста.

ОК 06. Проявлять гражданско-патриотическую позицию, демонстрировать осознанное поведение на основе традиционных общечеловеческих ценностей, применять стандарты антикоррупционного поведения.

ОК 07. Содействовать сохранению окружающей среды, ресурсосбережению, эффективно действовать в чрезвычайных ситуациях.

ОК 09. Использовать информационные технологии в профессиональной деятельности

ОК 10. Пользоваться профессиональной документацией на государственном и иностранном языках.

ОК 11. Использовать знания по финансовой грамотности, планировать предпринимательскую деятельность в профессиональной сфере.


В результате контроля и оценки по учебной дисциплине осуществляется комплексная проверка освоения следующих умений и знаний:

Умения:

- определять и сравнивать по разным источникам информации географические тенденции развития природных, социально-экономических и геоэкологических объектов, процессов и явлений;
- оценивать и объяснять ресурсообеспеченность отдельных стран и регионов мира, их демографическую ситуацию, уровни урбанизации и территориальной концентрации населения и производства, степень природных, антропогенных и техногенных изменений отдельных территорий;
- применять разнообразные источники географической информации для проведения наблюдений за природными, социально-экономическими и геоэкологическими объектами, процессами и явлениями, их изменениями под влиянием разнообразных факторов;
- составлять комплексную географическую характеристику регионов и стран мира; таблицы, картосхемы, диаграммы, простейшие карты, модели, отражающие географические закономерности различных явлений и процессов, их территориальные взаимодействия;
- сопоставлять географические карты различной тематики;

Знания:


- основные географические понятия и термины; традиционные и новые методы географических исследований;
- особенности размещения основных видов природных ресурсов, их главные месторождения и территориальные сочетания; численность и динамику населения мира, отдельных регионов и стран, их этногеографическую специфику; различия в уровне и качестве жизни населения, основные направления миграций; проблемы современной урбанизации;
- географические аспекты отраслевой и территориальной структуры мирового хозяйства, размещения его основных отраслей; географическую специфику отдельных стран и регионов, их различия по уровню социально-экономического развития, специализации в системе международного географического разделения труда; географические аспекты глобальных проблем человечества;
- особенности современного геополитического и геоэкономического положения России, ее роль в международном географическом разделении труда.

	КМРК БГАРФ ФГБОУ ВО «КГУ»		
Файл:МО-43.02.15.ОУД.09.ФОС	ГЕОГРАФИЯ		С.6/39

1.3 Сводные данные о формах и средствах контроля, основных показателях и критериях оценивания результатов обучения.

Контроль и оценка результатов освоения учебной дисциплины осуществляется преподавателем в процессе проведения текущего контроля на уроках, практических занятиях, тестирования, а также выполнения обучающимися индивидуальных заданий, самостоятельных работ, исследований, промежуточная аттестация.

Требования к знаниям и умениям в соответствии с ФГОС	Формируемые ПК и ОК	Формы контроля и оценочные средства результатов обучения	Критерии оценивания результатов обучения (законы, стандарты, правила, требования, нормативы и рекомендации)	Результат обучения (проектируемые элементы компетенций)
Усвоенные знания:				
3.1: основные географические понятия и термины; традиционные и новые методы географических исследований; особенности размещения основных видов природных ресурсов, их главные месторождения и территориальные сочетания;	ОК 01-ОК 07 ОК 09-ОК 11	Текущий контроль: Устный опрос: - Занятие № 2 «Политическое устройство мира». - Занятие № 4 «География мировых природных ресурсов» -тестирование. Промежуточная аттестация-дифференцированный зачет.	- в логической последовательности, связно, обоснованно и безошибочно излагает учебный материал, точно используя географическую терминологию и символику, в определённой логической последовательности; - умело иллюстрирует теорию конкретными примерами, применяет в новой ситуации при выполнении практического задания; - выделяет главное в изученном материале, устанавливает метапредметные и предметные связи	Знает: - типологию стран; - географический смысл формы строения и административно-территориального устройства стран; - новые методы географических исследований и событий (используя Интернет); - прогнозы и гипотезы развития цивилизации с учетом загрязнения окружающей среды.

	КМРК БГАРФ ФГБОУ ВО «КГТУ»	
Файл:МО-43.02.15.ОУД.09.ФОС	ГЕОГРАФИЯ	С.7/39

Продолжение


Требования к знаниям и умениям в соответствии с ФГОС	Формируемые ПК и ОК	Формы контроля и оценочные средства результатов обучения	Критерии оценивания результатов обучения (законы, стандарты, правила, требования, нормативы и рекомендации)	Результат обучения (проектируемые элементы компетенций)
<p>3.2: численность и динамику населения мира, отдельных регионов и стран, их этногеографическую специфику; различия в уровне и качестве жизни населения, основные направления миграций; проблемы современной урбанизации; географические аспекты отраслевой и территориальной структуры мирового хозяйства, размещения его основных отраслей;</p>	<p>ОК 01-ОК 07 ОК 09-ОК 11</p>	<p>Текущий контроль: -устный опрос: Занятие № 7 «Современные особенности развития мирового хозяйства. География отраслей первичной сферы мирового хозяйства». Занятие № 8. «География отраслей вторичной сферы мирового хозяйства. География третичной сферы мирового хозяйства». Промежуточная аттестация-дифференцированный зачет.</p>	<p>-последовательно, чётко, связно, обоснованно и безошибочно излагает учебный материал; - умело иллюстрирует теорию конкретными примерами, применяет в новой ситуации при выполнении практических заданий;</p>	<p>Знает: - состав населения. - классификацию народов мира по языковым семьям. -размещение и миграцию населения мира (термины); - основные районы промышленности и сельского хозяйства (ведущие страны); - основные элементы НТП и НТР</p>

Продолжение

Требования к знаниям и умениям в соответствии с ФГОС	Формируемые ПК и ОК	Формы контроля и оценочные средства результатов обучения	Критерии оценивания результатов обучения (законы, стандарты, правила, требования, нормативы и рекомендации)	Результат обучения (проектируемые элементы компетенций)
<p>3.3: географическую специфику отдельных стран и регионов, их различия по уровню социально-экономического развития, специализации в системе международного географического разделения труда; географические аспекты глобальных проблем человечества;</p>	<p>ОК 01-ОК 07 ОК 09-ОК 11</p>	<p>Текущий контроль: устный опрос, фронтальный опрос: Занятие № 10 «География населения и хозяйства Зарубежной Европы». Занятие № 11 «География населения и хозяйства Зарубежной Азии» Занятие № 13 «География населения и хозяйства Африки». Занятие № 14 «География населения и хозяйства Северной Америки» Занятие № 15 «География населения и хозяйства Латинской Америки». Тестирование. Промежуточная аттестация-дифференцированный зачет.</p>	<p>-последовательно, чётко, связно, обоснованно и безошибочно излагает учебный материал; - уверенно демонстрирует усвоение изученных тем; - раскрывает содержание материала в объёме, предусмотренном программой и учебником.</p>	<p>Знает: - административно-политическую номенклатуру; - определение регионального деления; - основные субрегионы мира и их специализацию; - общие хозяйственные характеристики регионов, и основные проблемы освоения труднодоступных участков территорий: -классификации экономических, социальных и экологических проблем глобального мира.</p>

Продолжение

Требования к знаниям и умениям в соответствии с ФГОС	Формируемые ПК и ОК	Формы контроля и оценочные средства результатов обучения	Критерии оценивания результатов обучения (законы, стандарты, правила, требования, нормативы и рекомендации)	Результат обучения (проектируемые элементы компетенций)
3.4: особенности современного геополитического и геоэкономического положения России, ее роль в международном географическом разделении труда;	ОК 01-ОК 07 ОК 09-ОК 11	Текущий контроль: Устный опрос, тестирование Промежуточная аттестация-дифференцированный зачет.	-последовательно, чётко, связно, обоснованно и безошибочно излагает учебный материал; - уверенно демонстрирует усвоение изученных вопросов; - раскрывает содержание материала в объёме, предусмотренном программой и учебником	Знает: - особенности современного геополитического и геоэкономического положения России; - роль России в международном географическом разделении труда; - определяет перечень стран входящих в ШОС, АСЕАН, БРИКС. - способы интегрирования промышленных комплексов в РФ и в мире;

	КМРК БГАРФ ФГБОУ ВО «КГТУ»	
Файл:МО-43.02.15.ОУД.09.ФОС	ГЕОГРАФИЯ	С.10/39

Продолжение

Требования к знаниям и умениям в соответствии с ФГОС	Формируемые ПК и ОК	Формы контроля и оценочные средства результатов обучения	Критерии оценивания результатов обучения (законы, стандарты, правила, требования, нормативы и рекомендации)	Результат обучения (проектируемые элементы компетенций)
Освоенные умения:				
У.1 определять и сравнивать по разным источникам информации географические тенденции развития природных, социально-экономических и геоэкологических объектов, процессов и явлений.	ОК 01-ОК 07 ОК 09-ОК 11	Текущий контроль: - устный опрос - Практическое занятие №1 «Ознакомление с географическими картами различной тематики. Ознакомление с политической картой мира». Промежуточная аттестация-дифференцированный зачет.	– уверенно выполняет географические действия, используя карты и информационные источники. - находит географические данные используя сопоставление разных информационных источников (учебник, дополнительную литературу, интернет).	Умеет: – качественно оформляет контурные карты в рабочей тетради «География10». - находить приближенные значения данных в информационных источниках.
У.2 оценивать и объяснять ресурсообеспеченность отдельных стран и регионов мира, их демографическую ситуацию, уровни урбанизации и территориальной концентрации населения и производства, степень природных, антропогенных и техногенных изменений отдельных территорий;	ОК 01-ОК 07 ОК 09-ОК 11	Текущий контроль: - устный опрос - Практическая работа № 2. «Определение и сравнение различных видами природных ресурсов». Промежуточная аттестация-дифференцированный зачет.	– изложение принципов деления стран по ресурсообеспеченности на группы. -формулирование понятий «урбанизация» и «территориальная концентрация населения и производства». - формулирование понятий «антропогенный» и «техногенный».	Умеет: – вычислять значение степени природных, антропогенных и техногенных изменений отдельных территорий (используя информационные источники); - записывать свою точку зрения по заданной теме (оценка рефератов и презентаций). - умеет выстраивать картосхемы размещения основных отраслей промышленности.
У.3 применять разнообразные источники географической информации для проведения наблюдений за природными, социально-экономическими и геоэкологическими объектами, процессами и явлениями, их изменениями под влиянием разнообразных факторов;	ОК 01-ОК 07 ОК 09-ОК 11	Текущий контроль: устный опрос, тестирование Промежуточная аттестация-дифференцированный зачет.	– уверенно применяет данные из разнообразных географических источников для сравнения разных наблюдений за природными, социально-экономическими и геоэкологическими объектами, процессами и явлениями, их изменениями под влиянием разнообразных факторов	Умеет: - точно и убедительно отвечать на заданные вопросы по диф.зачету. - использует статистические данные по географии для убедительности доказательства ответа.

Продолжение

Требования к знаниям и умениям в соответствии с ФГОС	Формируемые ПК и ОК	Формы контроля и оценочные средства результатов обучения	Критерии оценивания результатов обучения (законы, стандарты, правила, требования, нормативы и рекомендации)	Результат обучения (проектируемые элементы компетенций)
У.4 составлять комплексную географическую характеристику регионов и стран мира; таблицы, картосхемы, диаграммы, простейшие карты, модели, отражающие географические закономерности различных явлений и процессов, их территориальные взаимодействия;	ОК 01-ОК 07 ОК 09-ОК 11	Текущий контроль: Практическая работа №4. «Сравнительная характеристика субрегионов Зарубежной Азии». Практическая работа № 5 «установление взаимосвязей между природно-ресурсным потенциалом различных территорий и размещением населения и хозяйства латинской Америки». Практическая работа №6 Сравнительная характеристика субрегионов Африки. Россия в современном мире. Оценка геополитического и геоэкономического положения России». Промежуточная аттестация-дифференцированный зачет.	– уверенное оформление заданий по методике выполнения практических работ по географии.	Умеет: - составлять комплексную географическую характеристику регионов и стран мира - сравнивает таблицы, картосхемы, диаграммы, простейшие карты, модели, отражающие географические закономерности различных явлений и процессов, их территориальные взаимодействия; -применять полученные данные при оформлении практической работы.
У.5. сопоставлять географические карты различной тематики	ОК 01-ОК 07 ОК 09-ОК 11	Текущий контроль: работ - Устный опрос: Тема №18 «Итоговое повторение». -проверочная самостоятельная работа тестирование. Промежуточная аттестация-дифференцированный зачет.	- уверенно и правильно сопоставляет карты «Экологические проблемы мира» (атлас стр.26-27) «Политическая карта мира» (атлас стр.2-3) -самостоятельно находить информацию из дополнительных источников по географии (учебник, интернет).	Умеет: - применять полученные данные при оформлении контурной карты и устном опросе.

2. КОМПЛЕКТ ОЦЕНОЧНЫХ СРЕДСТВ ДЛЯ ПРОВЕДЕНИЯ ДИФФЕРЕНЦИРОВАННОГО ЗАЧЕТА.

Промежуточная аттестация по учебной дисциплине География проводится в форме дифференцированного зачета (тестирование по вариантам).

Общая оценка за дифференцированный зачет выставляется как среднеарифметическое значение оценок за текущий контроль (семестровая оценка) и промежуточную аттестацию (дифференцированный зачет).

При проведении промежуточной аттестации возможно использование электронного обучения (далее – ЭО) и дистанционных образовательных технологий (далее – ДОТ). Промежуточная аттестация обучающихся с использованием ЭО и ДОТ может проводиться на сайте dokmrk.ru в режиме тестирования, в режиме видеоконференции на платформе Google Meet (при необходимости – другими способами).

Вопросы для тестирования с применением ЭО и ДОТ разрабатываются в соответствии с разделами тематического плана рабочей программы учебной дисциплины и размещаются на образовательной платформе Moodle специалистом лаборатории образовательного аудита. Для получения положительной оценки по итогам промежуточной аттестации, организованной в форме тестирования, необходимо правильно ответить не менее чем на 71% вопросов.

Критерии оценивания промежуточного контроля по учебной дисциплине География.

Критерии оценивания промежуточного контроля по учебной дисциплине в форме тестирования будут следующими:

«Отлично» - 100-91% правильных ответов;

«Хорошо» - 90-81% правильных ответов;

«Удовлетворительно» - 80-71% правильных ответов;

«Неудовлетворительно» - 70-0% правильных ответов.

2.1 Тестовое задание к дифференцированному зачету.

Вариант 1

1. Установите правильное соотношение:

- | | |
|------------------------|-----------------------------------|
| 1) СНГ | А) Ла-Платская низменность; |
| 2) Зарубежная Европа | Б) Эфиопское нагорье; |
| 3) Зарубежная Азия | В) Туранская низменность; |
| 4) Северная Америка | Г) Индо-Гангская низменность; |
| 5) Латинская Америка | Д) Приатлантическая низменность; |
| 6) Африка | Е) Среднедунайская низменность |
| 7) Австралия и Океания | Ж) Большой водораздельный хребет; |

2. Укажите регион, где проживает наибольшее количество сельского населения.

- 1) СНГ;
- 2) Зарубежная Европа;
- 3) Зарубежная Азия;
- 4) Северная Америка;
- 5) Африка;
- 6) Австралия и Океания;
- 7) Латинская Америка.

3. Установите соответствие между регионами и их площадью (млн км²):

1.СНГ;	2. Зарубежная Европа;	3. Зарубежная Азия	4. Северная Америка	5. Латинская Америка	6. Африка	7. Австралия и Океания

А) 5,4;Б) 21; В) 9; Г) 30,3; Д) 27; Е) 19,4; Ж) 22,2.

4. Территориальная структура хозяйства большинства стран Зарубежной Азии, Африки и Латинской Америки определяется:

- 1) характером рельефа;
- 2) историческими факторами открытия и колонизации территории;
- 3) особенностями климата;
- 4) особенностями транспортной системы.

5. Выберите столицы стран Зарубежной Европы, не имеющих прямого выхода к морю:

- А) Астана; Б) Вена; В) Берн; Г) Варшава; Д) Будапешт;

Е) Амстердам; Ж) Улан-Батор; З) Прага; И) София; К) Братислава.

6. Назовите самую высокую гору Северной Америки и горную систему, к которой она относится. _____

7. Найдите единственное исключение в логическом ряду:

1) Меконг; 2) Хуанхэ; 3) Эбро; 4) Брахмапутра; 5) Евфрат; 6) Салуин; 7) Инд.

8. Выберите пять стран Зарубежной Азии, территорию которых охватывает «евразийский медный пояс»:

А) Турция; Б) Индонезия; В) Филиппины; Г) Сирия; Д) Иран;
Е) Китай; Ж) Индия; З) Румыния; И) Греция; К) Оман.

9. Укажите страну, непосредственными соседями которой являются: Намибия, Ботсвана, Мозамбик, Зимбабве.

1) ЮАР; 2) Ангола; 3) Танзания; 4) Мадагаскар; 5) Парагвай; 6) Оман; 7) Нигер.

10. В целом этот материк равнинный, но на западе находятся высокие горы (6960 м), богатые рудой цветных металлов, давших название этим горам. Этот материк:

1) Африка; 2) Южная Америка; 3) Австралия; 4) Евразия.

11. Выберите страну Зарубежной Азии, в которой господствующей религией является христианство:

1) Китай; 2) Кувейт; 3) Филиппины; 4) Индия; 5) Таиланд; 6) Непал; 7) Бразилия.

12. Установите соответствие между типами сельского хозяйства Зарубежной Европы и их характеристиками:

- | | |
|--------------------------|--|
| 1) Североевропейский тип | А) Преобладание животноводства. Растениеводство обслуживает животноводство и производит продовольствие. |
| 2) Среднеевропейский тип | Б) Преобладание молочного животноводства. Растениеводство в основном обслуживает животноводство. |
| 3) Южноевропейский тип | В) Преобладание растениеводства, особенно производства зерновых и фруктов. Животноводство в основном горно-пастбищное. |

13. Назовите страну – лидера Зарубежной Европы по производству продукции химической промышленности _____

14. Определите реку, на берегах которой стоят все, перечисленные ниже города:
Базель, Страсбург, Бонн, Кельн, Роттердам.

*Документ управляется программными средствами 1С Колледж
Проверь актуальность версии по оригиналу, хранящемуся в 1С Колледж*

1) Дунай; 2) Рейн; 3) Рона; 4) Одер (Одра); 5) Висла; 6) Гаронна; 7) Луара.

15. Определите страну по описанию: Эта страна является одной из ключевых стран развивающегося мира. Она начала экономическую реформу с 90-х годов и достигла определенных успехов. Однако, она остается страной еще очень больших контрастов. Например:

- по общему объему промышленного производства она занимает пятое место в мире, но по уровню национального дохода на душу населения 102-е;
- мощные, оборудованные по последнему слову техники предприятия сочетаются с десятками тысяч кустарных производств («промышленность на дому»);
- в сельск. хоз-ве крупные фермы и плантации сочетаются с миллионами мелких крестьянских хозяйств;
- по числу научно-технических специалистов эта страна уступает только России и США, но занимает лидирующие позиции по «утечке мозгов» и при этом половина населения неграмотна;
- в городах этой страны современные благоустроенные районы соседствуют с трущобами, где обитают миллионы бездомных и безработных.

16. Выберите федеративные государства Зарубежной Азии:

- А) ОАЭ; Б) Аргентина; В) Бразилия; Г) Израиль; Д) Бахрейн;
Е) Индия; Ж) Пакистан; З) Малайзия; И) Мьянма; К) Сирия.

17. Установите соответствие между странами Зарубежной Азии и группами:

- | | |
|----------------|---|
| 1) Япония | А) Наименее развитые страны мира; |
| 2) Израиль | Б) Нефтеэкспортирующие страны; |
| 3) Индия | В) Главные капиталистические страны; |
| 4) Южная Корея | Г) Новые индустриальные страны; |
| 5) Китай | Д) Ключевые страны; |
| 6) Катар | Е) Страны переселенческого капитализма; |
| 7) Йемен | Ж) Страны с переходной экономикой. |

18. Назовите страну Зарубежной Азии, являющуюся мировым лидером по добыче железной руды и производству стали. _____

19. Приозерный промышленный район находится в:

- 1) России; 2) Венгрии; 3) США; 4) Танзании; 5) Финляндии; 6) Швеции; 7) Канаде.

20. Выберите пять нефтяных штатов США

- А) Техас; Б) Луизиана; В) Оклахома; Г) Индиана; Д) Огайо.
Е) Орегон; Ж) Миннесота; З) Калифорния И) Мичиган К) Аляска.

21. Наибольшими в Латинской Америке запасами свинцово-цинковых руд обладает:

- 1) США; 2) Канада; 3) Мексика; 4) Чили; 5) Бразилия; 6) Перу; 7) Аргентина.

22. Выберите страны Латинской Америки, не имеющие выхода к морю:

- А) Эквадор; Б) Боливия; В) Парагвай; Г) Мали; Д) Ботсвана;
Е) Аргентина; Ж) Панама; З) Суринам; И) Венесуэла; К) Колумбия.

23. Лидерами Латинской Америки по запасам оловянных руд являются:

- 1) Боливия и Бразилия;
2) Мексика и Аргентина;
3) Венесуэла и Аргентина;
4) Боливия и Чили;
5) Колумбия и Эквадор;
6) Эквадор и Венесуэла;
7) Бразилия и Венесуэла.

24. Самой многонаселенной страной в Зарубежной Европе является:

- 1) Германия;
2) Великобритания;
3) Италия;
4) Франция;
5) Польша;
6) Испания;
7) Швеция.

25. Экологические проблемы крупнейших городов Латинской Америки связаны с:

- 1) перенаселенностью; 2) географическим положением;
3) нехваткой пресной воды; 4) сложностью утилизации отходов.

26. Какую реку США называют «американская Волга»? _____

27. Какой язык в Австралии является государственным?

- 1) Австралийский; 2) Английский; 3) Французский; 4) Испанский; 5) Голландский.

28. Среди перечисленных полезных ископаемых, которыми в значительной мере обеспечена ЮАР, выберите три исключения:

- А) Нефть; Б) Бокситы; В) Алмазы; Г) Железная руда; Д) Урановые руды;

Е) Газ; Ж) Золото; З) Медная руда; И) Уголь; К) Хромовые руды.

29. Укажите два крупнейших по численности населения города Австралии:

- 1) Мельбурн и Сидней; 2) Канберра и Сидней;
3) Алис-Спрингс и Мельбурн; 4) Канберра и Перт.

30. Основной зерновой культурой Африки является...

- 1) Пшеница; 2) Рис; 3) Кукуруза; 4) Просо и сорго; 5) Ячмень; 6) Рожь; 7) Овес.

Вариант 2

1. Установите правильное соотношение:

- | | |
|------------------------|-----------------------|
| 1) СНГ | А) Бискайский залив; |
| 2) Зарубежная Европа | Б) Бенгальский залив; |
| 3) Зарубежная Азия | В) Тасманово море; |
| 4) Северная Америка | Г) Гвинейский залив; |
| 5) Латинская Америка | Д) Карибское море; |
| 6) Африка | Е) Гудзонов залив; |
| 7) Австралия и Океания | Ж) Карское море. |

2. Укажите регион, где проживает наибольшее количество городского населения.

- 1) СНГ;
2) Зарубежная Европа;
3) Зарубежная Азия;
4) Северная Америка;
5) Африка;
6) Австралия и Океания;
7) Латинская Америка.

3. Установите соответствие между реками и океаническими бассейнами:

1) Рейн;	2) Замбези;	3) Маккензи;	4) Обь;	5) Амур;

Океаны: А) Атлантический; Б) Северный Ледовитый; В) Тихий; Г) Индийский.

4. Укажите регион, занимающий первое место по обеспеченности водными ресурсами.

- 1) СНГ

- 2) Зарубежная Европа;
- 3) Зарубежная Азия;
- 4) Северная Америка;
- 5) Африка;
- 6) Австралия и Океания;
- 7) Латинская Америка.

5. Выберите страны Зарубежной Азии не имеющие выхода к морю:

- А) Монголия; Б) Афганистан; В) Чад; Г) Ливан; Д) Сирия;
Е) Венгрия; Ж) Иран; З) Непал; И) Бутан; К) Лаос.

6. Назовите самую высокую гору Латинской Америки и горную систему, к которой она относится. _____

7. Найдите единственное исключение в логическом ряду:

- 1) Миссисипи;
- 2) Юкон;
- 3) Колорадо;
- 4) Колумбия;
- 5) Муррей;
- 6) Маккензи;
- 7) Миссури.

8. Выберите пять стран Зарубежной Европы, территорию которых охватывает «евразийский медный пояс»:

- А) Норвегия; Б) Россия; В) Польша; Г) Франция; Д) Болгария;
Е) Испания; Ж) Финляндия; З) Португалия И) Румыния; К) Великобритания.

9. Выберите ряд, составленный только из микросоударств Западной Европы:

- 1) Андорра, Монако, Сан-Марино;
- 2). Кипр, Лихтенштейн, Монако;
- 3) Ватикан, Греция, Сан-Марино;
- 4) Андорра, Дания, Люксембург;
- 5) Андорра, Монако, Эритрея;
- 6) Ватикан, Сан-Марино, Албания.

10. Эта страна входит в число экономически развитых стран мира, однако, ее хозяйству в основном присуща сырьевая направленность.

- 1) Китай; 2) Бразилия; 3) Австралия; 4) Япония; 5) США; 6) Израиль.

11. В каких частях Африки преобладают мусульмане?

- 1) Западной и восточной;
- 2) Центральной и южной;
- 3) Центральной и западной;
- 4) Северной и восточной;
- 5) Южной и восточной;
- 6) Центральной и северной.

12. Установите соответствие между странами и отраслями химической промышленности:

- | | |
|-------------|---|
| 1) Германия | А) Производство красителей и пластмасс; |
| 2) Франция | Б) Производство синтетического каучука; |
| 3) Бельгия | В) Производство химических удобрений; |
| 4) Швеция | Г) Лесохимия. |

13. Назовите страну Зарубежной Европы – лидера региона в производстве обуви. _____

14. Выберите железнорудные бассейны Зарубежной Европы:

- А) Рурский;
- Б) Лотарингский;
- В) Верхнесилезский;
- Г) Донецкий;
- Д) Нижнелаузицкий;
- Е) Уэльский;
- Ж) Кируна;
- З) Североморский;
- И) Западный;
- К) Галле-Лейпцигский.

15. Определите страну по описанию: Эта страна Юго-Восточной Азии – крупнейший архипелаг на планете. Ее территория расположена более чем на 3000 островах, крупнейший из которых - Калимантан. В этой стране располагается более 150 вулканов. _____

16. Выберите страны Зарубежной Азии с населением более 100 млн человек:

- А) ОАЭ; Б) Бангладеш; В) Бразилия; Г) Нигерия; Д) Саудовская Аравия;
Е) Ирак; Ж) Индия З) Индонезия; И) Пакистан; К) Япония.

17. Из предложенного списка выберите столицы нефтедобывающих стран Персидского залива:

- А) Багдад; Б) Басра; В) Эль-Кувейт; Г) Куала-Лумпур; Д) Канберра;
Е) Эр-Рияд; Ж) Джакарта; З) Доха; И) Каракас; К) Абу-Даби.

18. Ведущей отраслью большинства стран Зарубежной Азии является:

- 1) Черная металлургия;
- 2) Цветная металлургия;
- 3) Машиностроение;
- 4) Электроника;
- 5) Швейная промышленность;
- 6) Нефтегазовая промышленность;
- 7) Сельское хозяйство.

19. Выберите набор значений, характеризующий структуру занятости населения Канады.

№ ответа	Занято в сельском хозяйстве,	Занято в промышленности	Занято в сфере услуг
	%	%	%
1	58	30	12
2	3	25	72
3	42	14	44
4	22	76	2

20. Выберите морские порты США, расположенные на Тихоокеанском побережье:

- А) Нью-Йорк; Б) Филадельфия; В) Лос-Анджелес; Г) Сиэтл; Д) Новый Орлеан;
Е) Хьюстон; Ж) Балтимор; З) Сан-Франциско; И) Флорида; К) Детройт

21. Наибольшими в Латинской Америке запасами медной руды обладает:

- 1) США; 2) Канада; 3) Мексика; 4) Чили; 5) Бразилия; 6) Перу; 7) Аргентина.

22. Выберите страны Латинской Америки, имеющие федеративную форму государственного устройства:

- А) Боливия; Б) Венесуэла; В) Коста-Рика; Г) Уругвай; Д) Канада;
Е) Бразилия; Ж) Колумбия; З) Куба; И) Мексика; К) Аргентина.

23. Выберите страну Латинской Америки, выделяющуюся производством хлопчатобумажных тканей:

- 1) Аргентина; 2) Уругвай; 3) Парагвай; 4) Мексика; 5) Бразилия; 6) Индия; 7) Чили.

24. Мегалополис «Босваш» находится:

- 1) На юго-западе США;
- 2) На юге Великобритании;

- 3) На северо-западе Германии;
- 4) В Японии;
- 5) На северо-востоке США;
- 6) На севере США;
- 7) На Юге Франции.

25. Лидерами Латинской Америки являются:

- | | |
|------------------------------------|----------------------------------|
| 1) Бразилия, Мексика, Куба; | 2) Бразилия, Мексика, Аргентина; |
| 3) Мексика, Венесуэла, Чили; | 4) Канада, США, Мексика; |
| 5) Бразилия, Аргентина, Венесуэла; | 6) Бразилия, Мексика, Индия. |

26. Назовите город – «экономическую столицу» США _____

27. Какие языки являются государственными в большинстве стран Африки?

- | | |
|----------------------------|------------------------------|
| 1) Арабский и английский; | 2) Английский и французский; |
| 3) Арабский и сомалийский; | 4) Сонгаи и койсанский? |

28. Выберите три африканские страны монокультуры, специализирующиеся на добыче нефти и газа.

- | | | | | |
|------------|-------------|--------------|-----------|-------------|
| А) Ангола; | Б) Сенегал; | В) Намибия; | Г) Гана; | Д) Бенин; |
| Е) Судан; | Ж) Нигер; | З) ДР Конго; | И) Ливия; | К) Нигерия. |

29. Как называется монотоварная специализация хозяйства страны (узкая специализация на производстве одного, как правило, сырьевого или продовольственного товара, предназначенного главным образом для экспорта)?

30. Укажите, в какой части Австралии наиболее высока плотность населения, сосредоточены крупнейшие города, развита обрабатывающая промышленность:

- 1) северо-восток;
- 2) юго-восток;
- 3) юго-запад;
- 4) центральные районы.

Вариант 3

1. Установите правильное соотношение:

- | | |
|------------------------|------------------------------------|
| 1) СНГ | А) Пустыня Гоби; |
| 2) Зарубежная Европа | Б) Каракумы; |
| 3) Зарубежная Азия | В) Большая пустыня Виктория; |
| 4) Северная Америка | Г) Пустыня Калахари; |
| 5) Латинская Америка | Д) Великие равнины (Плато прерий); |
| 6) Африка | Е) Динарское нагорье; |
| 7) Австралия и Океания | Ж) Пустыня Атакама |

2. Укажите регион, в котором самые высокие темпы воспроизводства населения и самая высокая доля детей.

- 1) СНГ;
- 2) Зарубежная Европа;
- 3) Зарубежная Азия;
- 4) Северная Америка;
- 5) Африка;
- 6) Австралия и Океания;
- 7) Латинская Америка.

3. Азию от Африки отделяет:

- 1) пролив Ла-Манш;
- 2) Баб-эль-Мандебский пролив;
- 3) Аравийское море;
- 4) Средиземное море.

4. Найдите соответствие:

- | | |
|--------------|-------------------|
| Город: | Река: |
| 1) Гамбург; | А) Тигр; |
| 2) Турин; | Б) Св. Лаврентия; |
| 3) Багдад; | В) Меконг; |
| 4) Пномпень; | Г) По; |
| 5) Каир; | Д) Эльба; |
| 6) Монреаль; | Е) Нил; |

5. Выберите столицы стран Латинской Америки, не имеющих выхода к морю:

- А) Асунсьон; Б) Буэнос-Айрес; В) Кито; Г) Кабул; Д) Банги;
Е) Ла-Пас; Ж) Каракас; З) Лима; И) Нджамена; К) Манагуа.

6. Назовите самую высокую гору Африки и горную систему, к которой она относится. _____

7. Найдите ошибку: Великие озера (Северная Америка)- это озера

- 1) Верхнее; 2) Гурон; 3) Мичиган; 4) Большое соленое; 5) Эри; 6) Онтарио.

8. Выберите пять стран Зарубежной Европы, на территории которых находится «средиземноморская бокситоносная провинция»:

- А) Франция; Б) Германия; В) Венгрия; Г) Латвия; Д) Ирландия;
Е) Италия; Ж) Чехия; З) Румыния; И) Суринам; К) Греция.

9. Назовите страну, которую относят к Зарубежной Азии, но расположена она и в Европе и в Азии. _____

10. В какой стране подавляющая часть населения живет вдоль южной ее границы?

1) США; 2) Китай; 3) Франция; 4) Канада; 5) Аргентина; 6) Россия; 7) Бразилия.

11. Укажите религию, которую исповедует большая часть жителей Юго-Западной Азии:

- 1) Буддизм;
- 2) Христианство;
- 3) Ислам;
- 4) Индуизм;
- 5) Иудаизм;
- 6) Конфуцианство;
- 7) Синтоизм.

12. Установите соответствие между типами экономических районов и районами Зарубежной Европы:

- | | |
|-------------------------|----------------------------------|
| 1) Высокоразвитые | А) Рур (Германия) |
| 2) Старопромышленные | Б) Шельфовая зона Северного моря |
| 3) Отсталые аграрные | В) Район «Большого Лондона» |
| 4) Р-ны нового освоения | Г) Греция |

13. Назовите страну – лидера Зарубежной Европы по производству пшеницы

_____.

14. Отраслью специализации сельского хозяйства стран Южной Европы является:

- 1) овцеводство;
- 2) виноградарство;
- 3) шелководство;
- 4) птицеводство;
- 5) картофелеводство;

15. Определите название страны, о которой идет речь, укажите букву, соответствующую единственному верному для нее утверждению: *это государство находится на континенте, где все климатические пояса, кроме одного, повторяются дважды и является экономическим лидером региона. По уровню социально-экономического развития относится к странам «переселенческого капитализма». Эта страна:*

- 1) имеет сухопутную границу с шестью странами;

- 2) является крупным производителем какао, кофе;
- 3) столица является крупнейшим городом страны;
- 4) ее западными соседями являются две страны, одна из которых обладает крупными запасами железной руды, а другая – бокситов;
- 5) на севере страны высокотравная саванна, на юге — влажные экваториальные леса
16. Из перечисленных выберите регион Азии с наибольшей плотностью населения.
- 1) Тибетское нагорье;
- 2) Аравийский полуостров;
- 3) Остров Шри-Ланка;
- 4) Остров Ява;
- 5) Восточное побережье Средиземноморья.
17. Выберите четыре города – «экономические столицы» Индии:
- А) Мадрас; Б) Бомбей; В) Варанаби; Г) Гунтур; Д) Дели;
- Е) Бангалор; Ж) Тхимпху; З) Коломбо; И) Янгон; К) Калькутта.
18. Главной продовольственной культурой Зарубежной Азии является ...
- 1) Пшеница;
- 2) Кукуруза;
- 3) Рис;
- 4) Рожь;
- 5) Сахарная свекла;
- 6) Картофель;
- 7) Хлопчатник.
19. Какой город называют автомобильной столицей США?
- 1) Детройт; 2) Нью-Йорк; 3) Чикаго; 4) Даллас; 5) Вашингтон; 6) Сиэтл.
20. Из предложенного списка выберите три крупнейших города Канады:
- А) Оттава; Б) Торонто; В) Монреаль; Г) Калгари; Д) Саскатун;
- Е) Доусон; Ж) Даллас; З) Линкольн; И) Атланта; К) Ванкувер.
21. Назовите страну Латинской Америки, обладающую наибольшими в регионе запасами железной и марганцевой руды:
- 1) Перу; 2) Бразилия; 3) Венесуэла; 4) Чили; 5) Мексика; 6) Боливия; 7) Панама.
22. Выберите четыре крупнейшие городские агломерации Латинской Америки:
- А) Большой Мехико; Б) Каракас; В) Бразилиа; Г) Гавана; Д) Буэнос-Айрес;

Е) Рио-де-Жанейро; Ж) Токайдо; З) Богота; И) Монтевидео; К) Сан-Паулу.

23. Выберите страну Латинской Америки, выделяющуюся производством шерстяных тканей:

- 1) Аргентина;
- 2) Панама;
- 3) Парагвай;
- 4) Мексика;
- 5) Бразилия;
- 6) Пакистан;
- 7) Чили.

24. Калифорнийский мегалополис находится между городами:

- 1) Сан-Франциско – Сан-Диего;
- 2) Сан-Франциско – Сиэтл;
- 3) Бостон – Вашингтон;
- 4) Чикаго – Кливленд;
- 5) Джорджия – Майами;
- 6) Вашингтон – Кентукки;
- 7) Нью-Йорк – Сиэтл.

25. Южноамериканский общий рынок (МЕРКОСУР) включает:

- 1) Аргентину, Бразилию, Парагвай, Уругвай;
- 2) США, Канаду, Мексику;
- 3) Мексику, Бразилию, Аргентину, Боливию;
- 4) Колумбию, Эквадор, Перу, Чили.

26. Назовите город – «нефтехимическую столицу» США. _____

27. Укажите страну Латинской Америки, официальным языком которой является английский:

- 1) Мексика;
- 2) Куба;
- 3) Гайана;
- 4) Венесуэла;
- 5) Бразилия;
- 6) Суринам
- 7) Гвиана.

28. Выберите три африканские страны - монокультуры, специализирующиеся на добыче рудных полезных ископаемых.

- А) Конго;
- Б) Ботсвана;
- В) Габон;
- Г) Гвинея;
- Д) Эфиопия;
- Е) Египет;
- Ж) Алжир;
- З) Замбия;
- И) ЮАР;
- К) Уганда.

29. Выберите три отрасли, имеющие наиболее важное значение для экономики Австралии:

- А) Горнодобывающая промышленность;
- Б) Пищевая промышленность;
- В) Машиностроение;
- Г) Металлургия;
- Д) Химическая промышленность;

Е) нефтеперерабатывающая промышленность.

30. Верно ли утверждение, что Австралия является одной из самых урбанизированных стран мира и уровень урбанизации здесь около 85%?

1. Да; 2. Нет.

Вариант 4

1. Установите правильное соотношение:

- | | |
|------------------------|--------------------------|
| 1) СНГ | А) Пролив Па-де-Кале; |
| 2) Зарубежная Европа | Б) Залив Амундсена; |
| 3) Зарубежная Азия | В) Мозамбикский пролив; |
| 4) Северная Америка | Г) Татарский пролив; |
| 5) Латинская Америка | Д) Малаккский пролив; |
| 6) Африка | Е) Калифорнийский залив; |
| 7) Австралия и Океания | Ж) Бассов пролив. |

2. Укажите регион, в котором самый низкий уровень урбанизации, но самые высокие темпы.

- 1) СНГ;
- 2) Зарубежная Европа;
- 3) Зарубежная Азия;
- 4) Северная Америка;
- 5.) Африка;
- 6) Австралия и Океания;
- 7) Латинская Америка.

3. Найдите неверное сочетание:

- 1) Северная Америка – озеро Большое Невольничье;
- 2) Латинская Америка – Ботанический залив;
- 3) Африка- озеро Ньяса;
- 4) Азия – Персидский залив;
- 5) Австралия - Большой водораздельный хребет.

4. Найдите соответствие:

- | Город: | Достопримечательность: |
|------------|----------------------------|
| 1) Берлин; | А) Цвингер; |
| 2) Париж; | Б) Колизей; |
| 3) Афины; | В) Версаль; |
| 4) Рим; | Г) Брандербургские ворота; |

5) Солт-Лейк-Сити;

Д) Акрополь;

6) Дрезден.

Е) Великий храм мормонов.

5. Выберите горные системы Зарубежной Европы:

- А) Карпаты; Б) Аппалачи; В) Пиренеи; Г) Вогезы; Д) Атлас;
Е) Анды; Ж) Альпы; З) Апеннины; И) Тибет; К) Кавказ.

6. Назовите самую высокую гору Австралии _____

7. Найдите единственное исключение в логическом ряду:

- 1) Конго; 2) Нигер; 3) Нил; 4) Замбези;
5) Дарлинг; 6). Оранжевая; 7) Лимпопо.

8. Выберите пять стран Зарубежной Азии, территорию которых охватывает «тихоокеанский оловянный пояс»:

- А) Иран; Б) Ю.Корея; В) Индия; Г) Таиланд; Д) Австралия;
Е) Ирак; Ж) Бразилия; З) Китай; И) Малайзия; К) Индонезия;

9. Укажите страну, непосредственными соседями которой являются: Германия, Чехия, Словакия, Россия и другие страны _____

10. Почти 40% территории Африки занимают:

- 1) экваториальные леса; 2) саванны и редколесья;
3) переменно-влажные леса; 4) субтропики.

11. Из предложенного списка стран Зарубежной Европы выберите унитарное государство:

- 1) Германия; 2) Бельгия; 3) Австрия;
4) Швейцария; 5) Сербия и Черногория; 6) Польша.

12. Установите соответствие между типами экономических районов и районами Зарубежной Европы:

- 1) Высокоразвитые А) Шельфовая зона Северного моря
2) Старопромышленные Б) Промышленно-городская агломерация Рандстад
3) Отсталые аграрные В) Португалия
4) Р-ны нового освоения Г) Остравский район (Чехия).

13. Назовите страну – одного из мировых лидеров по выращиванию винограда, которую называют «садом Европы». _____

14. Назовите три страны Зарубежной Европы – центры трудовой иммиграции.

15. Определите страну по описанию: Эта страна состоит из двух объединенных в 1964 году стран – Танганьики и островного государства Занзибар. На территории страны находится самая высокая вершина Африки. Здесь же находится другое чудо природы – кратер потухшего древнего вулкана Нгоронгоро, в котором обитают слоны, носороги, гиены и другие дикие животные. На юге страны находится национальный парк Селус – один из крупнейших заповедников в мире. _____

16. Выберите арабские страны Зарубежной Азии.

- А) Израиль; Б) Ирак; В) Сирия; Г) Кувейт; Д) Турция;
Е) Катар; Ж) Иран; З) Афганистан; И) Непал; К) Ливан.

17. Установите соответствие между отраслями сельского хозяйства Зарубежной Азии (типами районов) и областями их распространения:

- | | |
|------------------------------|--|
| 1) Рисосеяние | А) Индонезия Малайзия; |
| 2) Чаеводство | Б) Сухие районы южной и восточной Азии; |
| 3) Тропическое земледелие | В) Шри-Ланка, Китай, Япония, Индия. |
| 4) Выращивание просо | Г) Северный Китай, Иран, Турция, Индия. |
| 5) Выращивание пшеницы | Д) Побережье Средиземного моря. |
| 6) Пастбищное животноводство | Е) Монголия, Афганистан, западные районы Китая. |
| 7) Субтропическое земледелие | Ж) Долины рек Янцзы, Меконг, Иравади, Ганг, Брахмапутра. |

18. Наиболее развитым районом Японии является:

- 1) север; 2).центральная часть;
3) Тихоокеанское (восточное) побережье; 4) западное побережье.

19. Выберите правильный ответ:«Для автомобилестроения США характерно...»

- 1) Очень высокая доля в производстве грузовиков;
2) Незначительное падение числа производимых автомобилей в последние годы.
3) Производство автомобилей для внутреннего рынка.
4) Производство автомобилей для внешнего рынка.

20 Установите соответствие между сельскохозяйственными поясами и районами США:

- | | |
|--------------------|--|
| 1) Кукурузный пояс | А) Великие равнины (Айова, Иллинойс, Индиана); |
| 2) Пшеничный пояс | Б) Север Центральных равнин; |
| 3) Хлопковый пояс | В Приозерье и северо-восток; |

- 4) Молочный пояс Г) Нижнее течение Миссисипи;
5) Животноводство на ранчо Д) Юг Великих равнин и горные штаты;
6) Р-ны выращивания риса Е) Калифорния и Флорида.
7) Р-ны садоводства и вино-градарства Ж) Примексиканская низменность, долина Миссисипи, Калифорния.

21. Назовите страну Латинской Америки, обладающую наибольшими в регионе запасами угля:

- 1) Колумбия; 2) Венесуэла; 3) Аргентина; 4) Мексика
5) Чили; 6) Бразилия; 7) Боливия.

22. Выберите пять стран Латинской Америки, обладающих наибольшими в регионе запасами бокситов:

- А) Чили; Б) Бразилия; В) Венесуэла; Г) Гайана; Д) Колумбия;
Е) Суринам; Ж) Мексика; З) Аргентина; И) Перу; К) Ямайка.

23. Выберите страну Латинской Америки, выделяющуюся производством синтетических тканей:

- 1) Аргентина; 2) . Уругвай; 3) Парагвай; 4) Мексика;
5) Бразилия; 6) Германия; 7) Чили.

24. Выберите ряд, в котором указаны центры химической промышленности США, развитие которых связано с использованием отходов от угольной промышленности и металлургии:

- 1) Сент-Луис, Чикаго, Хьюстон; 2) Чикаго, Нью-Йорк, Филадельфия;
3) Балтимор, Бомонд, Майами; 4) Хьюстон, Балтимор, Бомонд.

25. Укажите религию, которую исповедует большинство населения Латинской Америки:

- 1) Протестантизм; 2) Лютеранство; 3) Православие;
4) Ислам; 5) Католицизм; 6). Иудаизм;

26. Назовите «золотой штат» США – главный научный и военно-промышленный штат. _____

27. Укажите страну Латинской Америки, официальным языком которой является французский:

- 1) Мексика; 2) Куба; 3) Чили; 4). Венесуэла;
5) Бразилия; 6) Суринам; 7) Гвиана.

28. Выберите три африканские страны монокультуры, специализирующиеся на производстве продовольственных товаров и сельскохозяйственного сырья.

- А) Гвинея-Бисау; Б) Гвинея; В) ЮАР; Г) Гамбия; Д) Габон;
 Е) Мавритания; Ж) Замбия; З) Алжир; И) Бурунди; К) Австралия.

29. Выберите столицы стран Африки, имеющих выход к морю:

- А) Претория; Б) Ниамей; В) Монровия; Г) Бамако; Д) Хараре;
 Е) Бейрут; Ж) Сана; З) Триполи; И) Могадишо; К) Антананариву.

30. Назовите город – «экономическую столицу ЮАР».

- 1) Претория; 2) Йоханнесбург; 3) Дурбан; 4) Кейптаун;
 5) Порт-Элизабет; 6) Кимберли; 7) Аден.

Вариант 5

1. Установите правильное соотношение:

- | | |
|------------------------|-----------------------------------|
| 1) СНГ | А) Остров Тасмания; |
| 2) Зарубежная Европа | Б) Остров Мадагаскар; |
| 3) Зарубежная Азия | В) Остров Крит; |
| 4) Северная Америка | Г) Остров Ньюфаундленд; |
| 5) Латинская Америка | Д) Фолклендские острова; |
| 6) Африка | Е) Остров Суматра; |
| 7) Австралия и Океания | Ж) Архипелаг Земля Франца-Иосифа. |

2. Установите соответствие между регионами и их населением (млн чел.):

1.СНГ;	2. Зарубежная Европа;	3. Зарубежная Азия	4. Северная Америка	5. Латинская Америка	6. Африка	7. Австралия и Океания

- А) более 300; Б) более 3100; В) более 820; Г) более 510;
 Д) более 220; Е) более 500; Ж) около 30;

3. Найдите неверное сочетание:

- Африка – впадина Конго;
- Северная Америка – Каскадные горы;
- Латинская Америка – Пампа;
- Зарубежная Азия – пустыня Руб-эль- Хали;
- Австралия – Сиамский залив.

4. Установите соответствие между регионами мира и характерными чертами хозяйства:

1. Зарубежная Европа;	2. Зарубежная Азия;	3. Африка;	4. Латинская Америка.
-----------------------	---------------------	------------	-----------------------

--	--	--	--

А) колониальный тип отраслевой структуры хозяйства отличается преобладанием малотоварного сельского хозяйства;

Б) особенно бурно развивается экономика новых индустриальных стран;

В) экономическую мощь региона определяют страны - члены "большой семерки";

Г) общим для всех стран региона является сильная экономическая зависимость от США.

5. Выберите арабские страны Африки.

А) Марокко; Б) Сомали; В) Алжир; Г) Либерия; Д) Сирия;

Е) Эфиопия; Ж) Кения; З) Тунис; И) Ливия; К) Судан.

6. Назовите государство, которое занимает большую часть Аравийского полуострова. _____

7. Найдите единственное исключение в логическом ряду:

1) Дунай; 2) Рейн; 3) Эбро; 4) Гаронна;

5) Рона; 6) Св. Лаврентия; 7) По.

8. Выберите страны Латинской Америки, по территории которых проходит «американский медный пояс»:

А) США; Б) Канада; В) Мексика; Г) Эквадор; Д) Чили;

Е) Замбия; Ж) Суринам; З) Колумбия; И) Перу; К) Гайана.

9. Укажите страну, непосредственными соседями которой являются Индия, Иран, Афганистан:

1) Турция; 2) Бангладеш; 3) Ирак; 4) Непал;

5) Пакистан; 6) Россия; 7) Казахстан.

10. Страна — европейский лидер в производстве автомобилей, станков, крупнейший экспортер машиностроительной продукции:

1) Италия; 2) Чехия; 3) Германия;

4) Великобритания; 5) Польша; 6) Франция

11. Выберите столицу азиатского государства, форма государственного правления которого – абсолютная теократическая монархия.

1) Доха; 2) Амман; 3) Ватикан; 4) Дамаск;

5) Эр-Рияд; 6) Сукре; 7) Абу-Даби.

12. Установите соответствие между типами экономических районов и районами Зарубежной Европы:

- | | |
|-------------------------|----------------------------------|
| 1) Высокоразвитые | А) Район «Большого Парижа» |
| 2) Старопромышленные | Б) Запад Франции |
| 3) Отсталые аграрные | В) Эльзас и Лотарингия (Франция) |
| 4) Р-ны нового освоения | Г) Север Скандинавии |

13. Назовите две страны Зарубежной Европы, имеющие наибольшие в регионе запасы нефти. _____

14. Выберите пять стран так называемой «центральной оси развития» Зарубежной Европы:

- А) Великобритания; Б) Польша; В) Бельгия; Г) Нидерланды; Д) Швеция;
Е) Франция; Ж) Болгария; З) Румыния; И) Финляндия; К) Италия.

15. Определите страну по описанию: Д) Эту страну называют страной «льда и огня». Ее территория является частью Срединно-Атлантического хребта. Здесь около 140 вулканов, гейзеров, источников термальных вод. 85% жилых домов этой страны отапливается термальными водами. Но при этом 14% территории страны занято ледниками. _____

16. Выберите столицы стран Зарубежной Азии:

- А) Амман; Б) Никосия; В) Доха; Г) Кингстон; Д) Монровия;
Е) Кито; Ж) Манама; З) Сеул; И) Аккра; К) Джорджтаун.

7. Установите соответствие между макрорайонами США и их характеристикой:

1. Северо-восток	2. Средний Запад	3. Запад	4. Юг

А) Район крупной промышленности и сельского хозяйства. В нем находится приозерный мегалополис, «кукурузный», «пшеничный» и «молочный» пояс.

Б) Район больших перемен. Долгое время служил сырьевым придатком, но в последнее время быстро развивается и лидирует по добыче нефти, газа, фосфоритов, мощности электростанций и нефтехимических комбинатов. Выделяется выращиванием табака и хлопка.

В) Самый малый по площади, но самый развитый. Финансовый, торговый и промышленный центр страны. В нем находится политическая и экономическая столицы США.

Г) Самый большой по площади и самый динамичный в развитии (занимает первое место по темпам экономического роста). Район контрастов. Специализируется

на добывающей промышленности, пастбищном животноводстве и в то же время на его территории находятся крупнейшие научные центры

18. Если в Германии это – Рур, то в Индии это -...

1) Дамодар; 2) Мадрас; 3) Бомбей; 4) Канпур.

19. По реке Рио-Гранде проходит граница между:

- 1) США и Мексикой;
- 2) Бразилией и Аргентиной;
- 3) США и Канадой;
- 4) Эквадором и Ливией;
- 5) Кубой и Панамой;
- 6) Мексикой и Перу;
- 7) Парагваем и Уругваем.

20. Установите соответствие между мегалополисами США и отраслями специализации:

- | | |
|---------------------------------|---|
| 1) Приозерный мегалополис | А) Автомобилестроение |
| 2) Северо-восточный мегалополис | Б) Авиакосмическая и электронная промышленность |
| 3) Калифорнийский мегалополис | В) Судостроение и станкостроение |

21. Лидерами Латинской Америки по запасам газа являются:

- 1) Венесуэла и Мексика;
- 2) Мексика и Аргентина;
- 3) Венесуэла и Аргентина;
- 4) Боливия и Чили;
- 5) Колумбия и Эквадор;
- 6) Эквадор и Венесуэла;
- 7) Бразилия и Венесуэла.

22. Выберите три страны Латинской Америки, в которых наибольшее развитие получили отрасли обрабатывающей промышленности:

- А) Аргентина; Б) Бразилия; В) Венесуэла; Г) Канада; Д) ЮАР;
Е) Чили; Ж) Парагвай; З) Сингапур; И) Уругвай; К) Мексика.

23. Укажите страну Латинской Америки – крупнейшего в регионе производителя и экспортера пшеницы и кукурузы.

- 1) Бразилия; 2) Аргентина; 3) Мексика; 4) Парагвай;
- 5) Уругвай; 6) Канада; 7) Панама.

24. Выберите пару центров черной металлургии США, работа которых в большей степени ориентирована на использование привозной железной руды из Канады, Венесуэлы и Бразилии:

- 1) Чикаго, Гэри; 2) Питсбург, Кливленд;
3) Чикаго, Буффало; 4) Балтимор, Филадельфия.

25. Укажите вид транспорта, которому принадлежит решающая роль во внутренних перевозках Латинской Америки

- 1) Морской; 2) Внутренний водный; 3) Автомобильный;
4) Железнодорожный; 5) Трубопроводный.

26. Назовите столицу страны Латинской Америки, являющейся крупнейшим в регионе и мире производителем тростникового сахара _____

27. Укажите страну Латинской Америки, официальным языком которой является голландский:

- 1) Мексика; 2) Куба; 3) Чили; 4) Венесуэла; 5) Бразилия; 6) Суринам 7) Гвиана.

28. Из предложенного списка выберите страны Северной Африки

- А) Алжир; Б) Марокко В) Сомали; Г) Тунис; Д) Ливан;
Е) Египет; Ж) Эфиопия; З) Камерун; И) Ливия; К) Судан;

29. Выберите три африканских государства, имеющих федеративное гос. устройство:

- А) Марокко; Б) Ботсвана; В) Свазиленд; Г) Кения; Д) ЮАР;
Е) Индонезия; Ж) Лесото; З) Уганда И) Нигерия; К) Эфиопия;

30. Выберите африканскую страну, выделяющуюся наличием национальных природных парков:

- 1) Кения; 2) Намибия; 3) Египет; 4) Тунис; 5) Ангола; 6) Индонезия; 7) Таиланд.

Вариант 6

1. Выберите верные утверждения:

А) Зарубежная Азия – родина всех мировых религий.

Б) В сельском хозяйстве Зарубежной Азии наблюдается перевес посевов продовольственных культур над посевами технических культур и животноводством.

В) В экспорте Зарубежной Азии (особенно Индии и Китая) значительную долю занимает продукция животноводства.

Г) Экономика США отличается большей открытостью по сравнению с экономикой Зарубежной Европы.

Д) На территории Зарубежной Азии находятся пять из десяти центров мирового хозяйства.

Е) Подавляющая часть франко-канадцев проживает в провинции Квебек, находящейся на тихоокеанском побережье Канады.

Ж) Минеральные ресурсы Зарубежной Европы сильно истощены и отличаются некомплексностью.

З) В черной и цветной промышленности Зарубежной Европы идет переориентация на использование привозного сырья.

И) Уровень урбанизации в Латинской Америке значительно ниже, чем в Северной Америке и Зарубежной Европе.

К) Ведущая отрасль сельского хозяйства большинства стран Латинской Америки – животноводство.

2. Установите соответствие между регионами мира и характерными чертами населения:

- | | |
|-----------------------|--|
| 1) Зарубежная Азия; | А) главный очаг трудовой иммиграции; |
| 2) Африка; | Б) сложный этнический состав (живет более 1 тыс. народов); |
| 3) Зарубежная Европа; | В) выделяется самыми высокими темпами воспроизводства; |
| 4) Латинская Америка; | Г) доля коренного населения - 15%. |

3. Найдите неверное сочетание:

- 1) Зарубежная Европа – г. Эльбрус;
- 2) Африка – водопад Виктория;
- 3) Зарубежная Азия – Каракорум;
- 4) Северная Америка – впадина «Долина смерти»
- 5) Латинская Америка – Патагония;

4. Что общего у городов Токио, Бомбей, Сан-Паулу?

- 1) это центры крупнейших городских агломераций;
- 2) это столицы азиатских государств;
- 3) это столицы развитых государств;
- 4) они расположены на одной широте.

5. Выберите горные системы Зарубежной Азии:

- | | | | | |
|--------------|--------------------|------------------|---------------------|----------------------|
| А) Куньлунь; | Б) Капские горы; | В) Тянь-Шань; | Г) Нагорье Ахаггар; | Д) Плато Декан; |
| Е) Анды; | Ж) Большой Кавказ; | З) Плато Дарфур; | И) Большой Хинган; | К) Иранское нагорье. |

6. Назовите самую высокую гору Зарубежной Европы и горную систему, к которой она относится. _____

7. Найдите единственное исключение в логическом ряду:

- 1) Амазонка; 2) Иравади; 3) Парана; 4) Токантинс;
5) Ориноко 6) Мараньон; 7) Сан-Франсиску.

8. Выберите страну, на территории которой располагается часть «медного пояса» Африки:

- 1) Замбия; 2) Мавритания; 3) Тунис; 4) Сомали; 5) Алжир; 6) Египет; 7) Марокко.

9. Укажите страну, непосредственными соседями которой являются: Бразилия, Боливия и Аргентина:

- 1) Колумбия; 2) Уругвай 3) Парагвай; 4) Чили; 5) Эквадор; 6) Суринам; 7) Намибия.

10. Эта страна – один из крупнейших производителей судов, роботов, бытовой техники, лидер мирового рыболовства, крупнейший импортер зерна:

- 1) США; 2) Норвегия; 3) Канада; 4) Япония;
5) Германия; 6) Россия; 7) Великобритания.

11. Основная часть жителей Ирландии исповедует:

- 1) Ислам; 2) Католицизм; 3) Буддизм;
4) Иудаизм; 5) Протестантизм; 6) Православие.

12. Установите соответствие между типами экономических районов и районами Зарубежной Европы:

- 1) Высокоразвитые А) Юг Италии
2) Старопромышленные Б) Ланкашир (Великобритания).
3) Отсталые аграрные В) Шельфовая зона Северного моря
4) Р-ны нового освоения Г) Южный район Германии (Штутгарт, Мюнхен).

13. Назовите две страны Зарубежной Европы, богатые лесными ресурсами

14. Выберите столицы стран Северной Европы:

- А) Осло; Б) Стокгольм; В) Париж; Г) Хельсинки; Д) Рига;
Е) Берн; Ж) Лиссабон; З) Копенгаген; И) Мадрид; К) Варшава.

15. Определите страну по описанию: В этой европейской стране левостороннее движение. Столица — крупный город-порт. Монархия, но реальной политической властью обладает парламент. Расположена на островах и представляет собой союз четырех исторических областей. Берега омываются теплым течением. _____

16. Выберите ряд, полностью состоящий из городов Китая.

- 1) Пекин, Пхеньян, Урумчи, Тяньцзинь;

- 2) Далянь, Ухань, Фушунь, Харбин;
- 3) Баотоу, Пномпень, Сянган, Шанхай;
- 4) Аомынь (Макао), Китаюсю, Хайфон, Харбин.

17. В характеристике Австралии выберите единственное неверное утверждение:

- 1) В сельском хозяйстве Австралии преобладает животноводство;
- 2) Морской транспорт Австралии лидирует по грузообороту;
- 3) В Австралии хорошо развит внутренний водный транспорт;
- 4) Главные статьи экспорта Австралии – минеральное сырье и продукция сельского хозяйства;
- 5) В Австралии выделяют четыре экономических района;
- 6) Основные экспортные культуры Австралии — пшеница, сахарный тростник, хлопчатник;

7) Австралия занимает видное место в мире по запасам и добыче бокситов.

18. Токайдо - это крупнейший в Японии...

- 1) Национальный парк;
- 2) Свободная экономическая зона;
- 3) Мегалополис
- 4) Технополис;
- 5) Железнодорожный тоннель.

19. Сколько штатов входит в состав США? _____

20 Выберите пять штатов США, имеющих выход к Атлантическому океану:

- А) Невада; Б) Флорида; В) Луизиана; Г) Техас; Д) Виргиния;
Е) Калифорния; Ж) Монтана; З) Колорадо; И) Алабама; К) Аризона.

21. Основные запасы нефти Латинской Америки (около 90%) сосредоточены в:

- 1) Аргентине и Бразилии;
- 2) Бразилии и Мексике;
- 3) Мексике и Колумбии;
- 4) Венесуэле и Перу;
- 5) Венесуэле и Мексике;
- 6) Колумбии и Эквадоре;
- 7) Мексике и Чили.

22. Выберите страны бассейна Ла-платы:

- А) Парагвай; Б) ЮАР; В) Намибия; Г) Панама; Д) Мексика;
Е) Венесуэла; Ж) Заир; З) Колумбия; И) Уругвай; К) Аргентина.

23. Укажите тройку стран Латинской Америки, входящих в число мировых лидеров по производству кофе:

- 1) Бразилия, Колумбия, Мексика; 2) Бразилия, Колумбия, Эфиопия;
3) Бразилия, Аргентина, Мексика; 4) Мексика, Бразилия, Венесуэла.

24. Укажите отрасль специализации большинства предприятий «Селиконовой долины США»

- 1) Электроника; 2) Резиновая промышленность;
3) Фармацевтика; 4) Судостроение.

25. Выберите пару стран Латинской Америки, в которых ведущей отраслью сельского хозяйства является животноводство:

- 1) Бразилия, Мексика; 2) Аргентина, Уругвай; 3) Парагвай, Бразилия
4) Панама, Куба; 5) Аргентина; Бразилия; 6) Парагвай, Уругвай;
7) Пакистан, Монголия.

26. Назовите африканскую страну, часть которой расположена в другой части света. Разделяют обе части Суэцкий залив и Суэцкий канал. _____

27. Укажите страну Латинской Америки, официальным языком которой является португальский:

- 1) Мексика; 2) Куба; 3) Чили; 4) Венесуэла; 5) Бразилия; 6) Суринам. 7) Гвиана.

28. Выберите африканские страны – члены ОПЕК:

- А) Алжир; Б) Замбия; В) Венесуэла; Г) Эфиопия; Д) Катар;
Е) Эквадор; Ж) ЮАР; З) Судан; И) Нигерия; К) Ливия.

29. Выберите три африканских государства, имеющих монархическую форму правления:

- А) Катар; Б) Марокко; В) Эфиопия; Г) Свазиленд; Д) Сомали;
Е) Бурунди; Ж) Нигерия; З) Лесото; И) ЮАР; К) Мадагаскар.

30. Выберите африканскую страну, выделяющуюся наличием памятников мировой культуры:

- 1) Кения; 2) ЮАР; 3) Египет; 4) Тунис; 5) Ангола; 6) Турция; 7) Непал.

Ответы к тесту

	Вариант 1	Вариант 2	Вариант 3	Вариант 4	Вариант 5	Вариант 6
1	ВЕГДАБ Ж	ЖАБЕДГ В	БЕАДЖГВ	ГАДБЕВЖ	ЖВЕГДБА	АБДЖЗ
2	3	3	5	5	ДГБАЕВЖ	БВАГ
3	ЖАДЕБГ В	АГББВ	2	2	5	1
4	2	7	ДГАВЕБ	ГВДБЕА	ВБАГ	1
5	БВДЗК	АБЗИК	АЕ	АВГЖЗ	АВЗИК	АВДИК
6	Мак-Кинли, Кордильеры	Аконкагуа, Анды	Килиманджаро, Вост.Аф.нагорье	Костюшко	Саудовская Аравия	Монблан, Альпы
7	3	5	4	5	6	2
8	АГДЕЖ	АВДЖИ	АВЕЗК	БГЗИК	ВГДЗИ	1
9	1	1	Турция	Польша	5	3
10	2	3	4	2	3	4
11	3	4	3	7	5	2
12	БАВ	АБВГ	ВАГБ	БГВА	АВБГ	ГБАВ
13	Германия	Италия	Франция	Италия	Великобритания, Норвегия	Финляндия, Швеция
14	2	БЖ	2	Великобритания, Франция, Германия	АВГЕК	АБГДЗ
15	Индия	Индонезия	1	Танзания	Исландия	Великобритания
16	АЕЖЗИ	БЖЗИК	4	БВГЕК	АБВЖЗ	2
17	ВЕДГЖБ А	АВЕЗК	АБДК	ЖВАБГЕД	ВАГБ	3
18	Китай	7	3	3	1	3
19	3	2	1	3	1	50
20	АБВЗК	ВГЗ	БВК	БАГВДЖЕ	АВБ	БВГДИ
21	3	4	2	6	1	5
22	БВ	БЕИК	АДЕК	БВГЕК	АБК	АИК
23	1	5	1	4	2	1
24	1	5	1	2	4	1
25	1	2	1	5	3	2
26	Миссисипи	Нью-Йорк	Хьюстон	Калифорния	Бразилия	Египет
27	2	2	3	7	6	5
28	АБЕ	АИК	БГЗ	АГИ	АБГЕИК	АИК
29	1	Монокультура	АБГ	АВЗИК	ДИК	БГЗ
30	4	2	1	2	1	3